



2°

PRIMARIA

**SEMI
ANUAL
2024**

SEMANA 01

EXAMEN

DE

SIMULACRO

**SISTEMA DELTA
EXIGENCIA 100%**

SIGUENOS EN



Academia DELTA



982 888 343

**Juliaca: Jr. 2 de mayo # 458
(Plaza de Armas)**

COMUNICACIÓN

1. Lee la oración y marca con una "X" la respuesta

Fátima salió rápidamente de su casa para jugar un partido de voleibol en la escuela.

¿De dónde salió Fátima?

- a) De su casa.
 b) De la escuela.
 c) Del mercado.

2. Lee la oración y marca con una "X" la respuesta.

En la casa, Ana cocina y Luís lava los platos.

¿Qué hace Luís?

- a) Cocina.
 b) Lava los platos.
 c) Lava ropa con Ana.

3. Lee la oración y marca con una "X" la respuesta.

Angélica hizo rápido su tarea para jugar con su amiga.

¿Para qué Angélica hizo rápido su tarea?

- a) Para que la vea su profesora
 b) Para ayudar a su mamá.
 c) Para jugar con su amiga.

4. En clase, Diana escribió esta historia.

Un día, Marina fue a comprar jugo de quinua con su tía. Cuando regresaba por el camino, se tropezó con una piedra y todo el jugo de quinua se le cayó al suelo. Marina se sintió muy triste. Al ver lo ocurrido, su tía la abrazó para que se sintiera mejor.



¿A dónde fue Marina?

- a) A saludar a su tía.
 b) A comprar jugo de quinua.
 c) A vender jugo de quinua.

5. ¿Por qué Marina se sintió muy triste?
 a) Porque fue a comprar jugo de quinua.
 b) Porque se golpeó con una piedra.
 c) Porque se le cayó todo el jugo de quinua.


6. ¿De qué trata esta historia?

- a) De una niña que derramó su jugo de quinua.
 b) De una tía que se cayó al suelo.
 c) De un lugar donde venden bastante jugo.

EL OSO PEREZOSO

El oso perezoso es un animal que vive en la selva peruana.

Es más o menos del tamaño de un perro mediano y vive en las ramas de los árboles. Su pelo es de color



marrón. Se alimenta de las hojas de los árboles.

Se le llama "perezoso" porque todo el día está quieto o se mueve muy poco. En general, es un animal muy lento. Si bajara al suelo por mucho tiempo, podrían atraparlo animales más grandes y rápidos.

Por eso solo baja para bañarse en un río o una laguna cercana.

7. Según el texto, ¿dónde vive el oso perezoso?

- a) En la selva peruana.
 b) En todo el mundo.
 c) En todo el Perú.

8. En el texto, ¿Por qué a este animal se le llama "perezoso"?

- a) Porque es un animal que se mueve mucho.
 b) Porque es un animal que se mueve rápido.
 c) Porque es un animal que se mueve muy poco.

9. ¿Por qué otros animales podrían atrapar al oso perezoso en el suelo?

- a) Porque no sabe trepar a los árboles.
- b) Porque su pelo es de un color llamativo.
- ~~c) Porque es un animal muy lento.~~

10. ¿De qué trata principalmente el texto que leíste?

- ~~a) Trata de cómo es el oso perezoso~~
- b) Trata de dónde vive el oso perezoso.
- c) Trata del tamaño del oso perezoso.

MATEMÁTICA

11. Manuel quita 7 canicas de 19 canicas que tenía. Ahora

¿Cuántas canicas le quedan?



- a) 2 canicas.
- ~~b) 12 canicas.~~
- c) 26 canicas.


12. Pedro guardó 6 chapitas en una bolsa y puso otras sobre la mesa. Observa.



¿Cuántas chapitas tiene en total Pedro?


- a) 6 chapitas.
- b) 8 chapitas.
- ~~c) 14 chapitas.~~

13. Observa los plátanos  y papayas  que hay sobre la mesa.



- a) La cantidad de plátanos **es menor** que la de papayas.
- ~~b) La cantidad de plátanos **es mayor** que la de papayas.~~
- c) La cantidad de plátanos **es igual** que la de papayas.


14. Estas niñas entrarán al salón respetando el orden de la fila que muestra la figura.



¿Quién entrará en segundo lugar?

- a) Melania
- ~~b) Elena~~
- c) Patricia

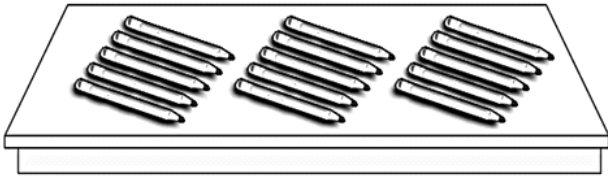
15. Andrés cuenta la cantidad de manzanas, plátanos y tunas que tiene. Observa.



¿Qué fruta tiene Andrés en mayor cantidad?

- a) Manzanas.
- b) Tunas
- ~~c) Plátanos~~

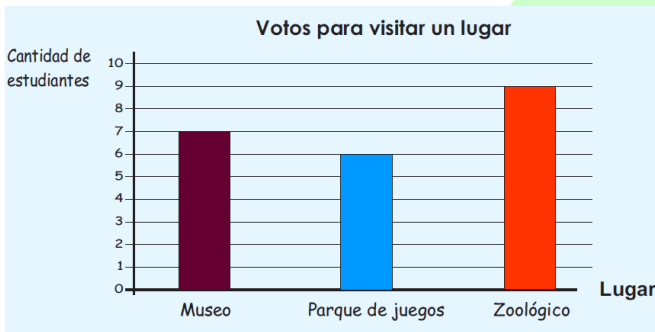
16. Mariela tiene los siguientes lápices.



Con la cantidad de lápices que tiene Mariela, ¿cuántos grupos de 10 lápices puede formar?

- a) 1 grupo
- b) 3 grupos
- c) 15 grupos

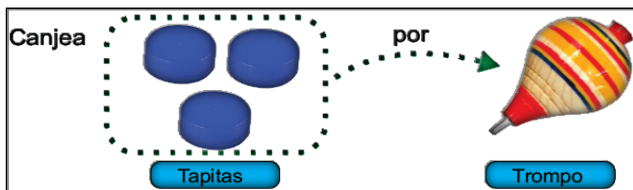
17. Los estudiantes de segundo grado votaron para elegir el lugar que quieren visitar. Los resultados de la votación se muestran en el siguiente gráfico de barras.



¿Cuántos estudiantes votaron para visitar el parque de juegos?

- Museo
- Parque de juegos
- Zoológico
- a) 6 estudiantes.
- b) 8 estudiantes.
- c) 9 estudiantes.

18. Observa este cartel.

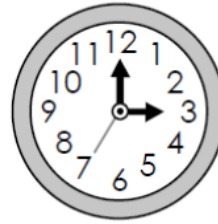


Tomás quiere canjear 3 trompos. ¿Cuántas tapitas necesitará?


- a) 3 tapitas.
- b) 6 tapitas.
- c) 9 tapitas.

19. El reloj de Rómulo tiene cuatro lados iguales.


¿Cuál es el reloj de Rómulo?



a)



b)



c)

20. Martha está sentada. Observa.



¿Qué objeto está detrás de Martha?

- a) La pizarra
- b) EL pomo de goma
- c) El florero