



2°

PRIMARIA

**SEMI
ANUAL
2024**

**EXAMEN DE
SIMULACRO**

SEMANA 02

GRADO Y SECCIÓN

NOMBRES Y APELLIDOS DEL ESTUDIANTE

**SISTEMA DELTA
EXIGENCIA 100%**

SIGUENOS EN



Academia DELTA



982 888 343


**Juliaca: Jr. 2 de mayo # 458
(Plaza de Armas)**

COMUNICACION

Lee el texto.

Tres elefantes se balanceaban sobre la tela de una araña.

Como veían que resistía, fueron a buscar a otro elefante más.



1. ¿Cuántos elefantes se balanceaban?

- A) Dos elefantes.
- B) Tres elefantes.
- C) Cuatro elefantes.

2. ¿Dónde se balanceaban los elefantes?

- A) En una cuerda de sogas.
- B) En una tela de araña.
- C) En una sábana de hilo.

Lee el cuento.

En un pueblo lejano, vivían un anciano y su hija. El anciano era un hombre muy avaro porque tenía mucho dinero, pero nunca gastaba nada. Todo lo que ganaba lo guardaba debajo de su colchón, pues tenía miedo de que se lo robaran.



Un día, su hija enfermó gravemente. El anciano salió desesperadamente a buscar ayuda. En el camino se encontró con un campesino, quien le dijo:

—Debes ir pronto al pueblo vecino. Ahí encontrarás buenos médicos. Yo te puedo llevar en mi caballo.

El anciano le contestó:

—Pero ellos siempre quieren dinero y no es bueno desperdiciar el dinero.

Preocupado, el campesino respondió:

—¿De qué te va a servir todo tu dinero si tu hija se muere? Vamos rápido. Yo te llevo en mi caballo. Entonces, el anciano reflexionó, tomó el dinero de su colchón y salió con el campesino a buscar un médico. Solo así su hija pudo salvarse.

3. ¿Cómo era el campesino?

- A) Egoísta.
- B) Colaborador.
- C) Avaro.

4. ¿Qué nos enseña principalmente este cuento?

- A) Que no hay que ser avaros.
- B) Que hay que cuidar el dinero.
- C) Que hay que dar buenos consejos.

5. Rocío es una niña de segundo grado de primaria. A ella no le gusta usar sus colores porque no quiere que se gasten. ¿A cuál de los personajes del cuento se parece Rocío?

- A) A la hija.
- B) Al anciano.
- C) Al campesino.

6. Lee el texto.

Anoche, un ladrón entró a robar a la casa de Andrés. Una vecina lo vio y gritó. El ladrón se escapó.

¿Quién entró a la casa de Andrés?

- A) Una vecina.
- B) Un ladrón.
- C) Un gato

Lee el Aviso.

Festival de títeres



"El muñeco de trapo"

Lugar: Escuela Micaela Bastidas

Fecha: 6 de agosto

Hora: 4 de la tarde

7. ¿Para qué se hizo este aviso?

- A) Para enseñarnos a hacer títeres.
- B) Para que conozcamos una escuela.
- C) Para invitarnos al festival de títeres.

8. Observa la siguiente parte del aviso.

"El muñeco de trapo"

¿Para qué esta parte se ha escrito con una letra diferente y más grande?

- A) Para indicar que es una parte importante del aviso.
- B) Para que el aviso se vea más lindo y colorido.
- C) Para combinar muchos colores.

En el patio de una escuela, se organizó una exposición de textos sobre animales imaginarios. Una niña llamada Camila escribió el siguiente texto. Léelo atentamente y responde las preguntas.

Este animal se llama *serpilori*. Es la cría de una serpiente y un loro. Es un animal creativo y muy relajado. La *serpilori* tiene un pico grande que le ayuda a chillar. También, posee un cuerpo largo, muy largo, tan largo que la gente se asusta cuando la ve. Cuando tiene miedo, se vuelve chiquita. En cambio, cuando quiere asustar se vuelve grande. Vive debajo de la tierra.



9. ¿Para qué se habrá colocado la imagen en el texto?


- A) Para adornar el texto y que se vea bonito.
- B) Para tener una idea de cómo es una *serpilori*.
- C) Para conocer dónde viven las *serpiloris*.

10. ¿Por qué la gente se asusta cuando ve una *serpilori*?

- A) Porque se vuelve chiquita
- B) Porque posee un cuerpo largo, muy largo
- C) Porque es la cría de una serpiente y un loro

MATEMATICA

11. Los panes que están en la mesa acaban de salir del horno.



¿Cuántas decenas de panes acaban de salir del horno?

- A) 20 decenas.
- B) 2 decenas.
- C) 3 decenas.

12. María tiene 65 botellas en la bolsa.



Esto quiere decir lo siguiente:

- A) Hay más de 5 decenas de botellas en la bolsa.
- B) Hay más de 7 decenas de botellas en la bolsa.
- C) Hay más de 65 decenas de botellas en la bolsa.

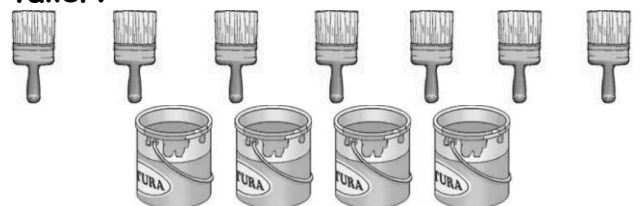
13. Observa las manzanas que recogieron Diego y Gloria.



¿Cuántas manzanas debe recoger Diego para tener tantas manzanas como Gloria?

- A) 11 manzanas.
- B) 4 manzanas.
- C) 3 manzanas.

14. En un taller de carpintería hay brochas y latas de pintura. ¿Cuántas brochas más que latas de pintura hay en el taller?



- A) 3 brochas.
- B) 7 brochas.
- C) 11 brochas.


15. Observa la cantidad de dinero que tiene Diego:



Él quiere comprar una chompa de 21 soles.
¿Cuánto dinero le falta?

A) 8 soles.
 B) 13 soles.
 C) 16 soles.


16. La balanza está en equilibrio.



Todos los cubitos pesan igual. ¿Cuántos cubitos hay en la bolsa?

A) 5 cubitos.
 B) 7 cubitos.
 C) 8 cubitos.


17. Juana visita un centro comercial y busca lo que necesita para su casa.



¿Qué formas tienen los objetos que necesita Juana?

A) Círculo, rectángulo y rombo.
 B) Círculo, rectángulo y cuadrado.
 C) Círculo, rectángulo y triángulo.


18. Andrés usa sus pasos para medir el largo del jardín.



¿Cuántos pasos mide el largo del jardín?

A) 8 pasos.
 B) 7 pasos.
 C) 6 pasos.

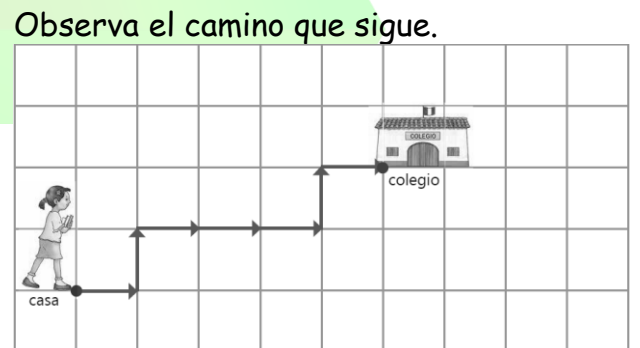
19. Observa las galletas que tienen Ana y Rosa.



¿Qué forma tienen las galletas de Ana?

A) De un círculo.
 B) De un cuadrado.
 C) De un triángulo.

20. Luciana camina de su casa al colegio todos los días.



¿Cuál es el desplazamiento que realiza Luciana?

A) 1 → 1 ↑ 3 → 1 ↑ 1 →
 B) 1 → 1 ↑ 4 → 1 ↑
 C) 1 → 1 ↑ 3 → 1 → 1 ↑